


Musikschule



Musikkunde 2

Übungstest im Violinschlüssel 2.Auflage

Datum: _____

Name: _____

Instrument: _____

1. Gehörübungen:a. Stelle fest, um welches Intervall es sich handelt (Grobbestimmung)!Beispiel 1: Terz Quint SeptimBeispiel 1: Sekund Quart Sext


2 mögliche Punkte

b. Stelle fest, um welchen Dreiklang es sich handelt (Dur oder übermäßig bzw. Moll oder vermindert)!Beispiel 1: Dur übermäßigBeispiel 2: Moll vermindert

2 mögliche Punkte

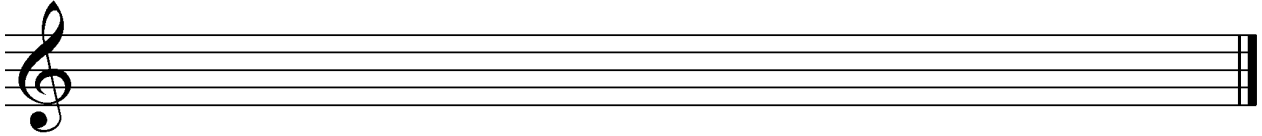
c. Melodiediktat!Notenwerte: Tonhöhen: c¹, d¹, e¹, f¹, g¹

4 mögliche Punkte

2. Bestimme die Namen der Noten mit Oktavbezeichnung!

3 mögliche Punkte

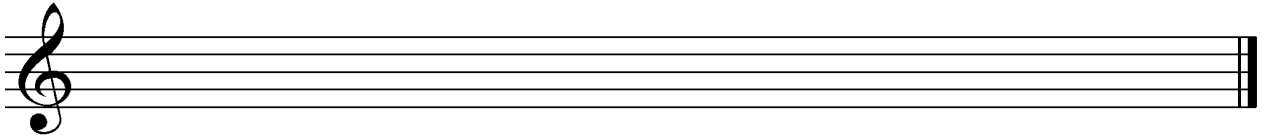
3. a. Schreibe die As-Dur Tonleiter in ganzen Noten auf- und abwärts, die Vorzeichen und bezeichne die Halbtonschritte!



2 mögliche Punkte


b. Schreibe dazu die parallele harmonische und die melodische Molltonleiter in ganzen Noten auf- und abwärts, die Vorzeichen und bezeichne die Halbtonschritte!

Harmonische Molltonleiter:




2 mögliche Punkte

Melodische Molltonleiter:



2 mögliche Punkte

4. Bilde folgende Intervalle über der angegebenen Note, kehre diese um und benenne die Komplementärintervalle!



um Sexte

große Terz

um Quinte

6 mögliche Punkte

5. Bilde folgende Dreiklänge in Grundstellung!



Dur auf fis

Übermäßig auf f

Moll auf es


Vermindert auf c

4 mögliche Punkte

6. Erkläre folgende Bezeichnungen!

sempre _____

piu vivo _____

Triller *tr*  _____

3 mögliche Punkte

7. Nenne zwei Komponisten aus der Romantik mit je einem Werk!

1. Komponist: _____

Werk: _____

2. Komponist: _____

Werk: _____

2 mögliche Punkte

Beurteilungsschlüssel:

32 – 29 Punkte	sehr gut
28 – 25 Punkte	gut
24 – 21 Punkte	befriedigend
20 – 17 Punkte	genügend
16 – 00 Punkte	nicht genügend

Gesamtpunktezahl:**Beurteilung:** _____**Unterschrift der korrigierenden Person:**
